

Jeudi 19 mars 2020

Orthographe son [z]

1. Copie 5 fois et apprends les mots par ♥

un oiseau :

zéro :

un zèbre :

un lézard :

2. Lis bien la dictée.

○ Souligne les verbes en rouge

○ Souligne les sujets en bleu.

Il y a 2 erreurs d'accord sujet / verbe

5 erreurs d'accord déterminant / nom

1 erreur d'accent et 1 verbe mal écrit

C'est l'été. Sur le mur de la maison, des lézard bronze au soleil.

Dans la cuisine, mes parent prépare des fraise au sucre.

Dehors, mon frère et moi jouon . Nous sommes des pirate à la recherche d'un trésors .

J19/03

C'est l'été. Sur le mur de la maison, des lézards bronzent au soleil.

ils

Dans la cuisine, mes parents préparent des fraises au sucre.

ils

Dehors, mon frère et moi jouons. Nous sommes des pirates à la recherche d'un trésors.

frère
1

Conjugaison

1. Ecris le verbe aller au présent.

2. Complete



Le présent. Cherche le pronom manquant et conjugue le verbe.

1

... vais

Ils ..

... va



Tu.....

... allons

Vous

Aller

Le présent. Cherche le pronom manquant et conjugue le verbe.

2

... allez

Zoé ...

... vas



Nous ...

... vont

Je ...

Grammaire

1. Relis le texte PICOT de lundi 16 mars
Nou de Laque

2. Lis le texte PICOT "Nou de Laque et Nouette de Laque"
Colorie en jaune ce qui a changé.

5) Complète avec les verbes conjugués au présent :

Audrey et Emilie _____ (aller) plus loin.

Le vent _____ (souffler) à travers les branches.

Il _____ (gonfler) les voiles du bateau.

De gros nuages _____ (arriver) et _____

(passer) devant le soleil.

Je transforme

→ Noir et Noirette

Noir de Laque et Noirette de Laque

Noir de Laque et Noirette de Laque sont des canards tout noirs avec des plumes noires et brillantes. Ils regardent les autres canards en pensant :

- Bec-en-Trompette a des plumes vertes, Canard Boiteux a des plumes bleues et moi, nous n'avons pas de belles couleurs comme eux.

Un jour, un peintre installe son chevalet au bord de la mare. Il ouvre sa boîte de peinture, sort ses pinceaux, sa palette. Il étale du rouge, du marron, du noir. Noir de Laque et Noirette de Laque sont curieux. Ils vont vers le peintre et disent :


- Tu peux mettre un peu de bleu de chaque côté sur nos ailes ?
Le peintre dessine deux jolis points bleus sur les ailes de Noir de Laque et Noirette de Laque. Les canards ne bougent pas et disent :

- Nous voulons aussi du vert !

Le peintre met un cercle vert autour des deux taches bleues. Puis il prend des paillettes d'or dans le creux de sa main. Il saupoudre la tache bleue et le cercle vert.

Noir de Laque et Noirette de Laque sont contents, tous les autres canards les admirent. Ils les trouvent très beau. Mais voilà que le ciel devient noir. Il se met à pleuvoir.

Mathématiques
Problèmes



Problème 1 :

Hier, Emna a gagné 13 billes à la récréation du matin et 12 à celle de l'après midi.

Combien a-t-elle gagné de billes dans la journée ?

Sur le cahier, j'écris :

Réponse : Problème 1

..... $13 + 12 = 25$

..... Elle a gagné 25 billes dans la journée

Pour rédiger la phrase réponse.

1. Je relis la question.
2. Je reprends les mots de la question pour faire la phrase.
3. J'écris la phrase :
 - en la commençant par une majuscule ;
 - en recopiant sans faute les mots ;
 - en terminant par un point.

Problèmes au chocolat – série A (1/2)

Résous les problèmes suivants par le calcul, en utilisant l'addition ou la soustraction.

1 • Mamie a acheté un sachet de petits poissons en chocolat. Elle en donne 12 à Candice et 14 à Quentin.

Combien Mamie a-t-elle donné de poissons en chocolat en tout ?

Réponse :

.....
.....
.....

2 • Léo avait acheté une tablette de 24 carreaux de chocolat. Mais en chemin, il a mangé 11 carreaux.

Combien reste-t-il de carreaux de chocolat dans sa tablette ?

Réponse :

.....
.....
.....

3 • Papy a acheté un sachet de 50 œufs en chocolat.
 Il en donne 14 à Louis et 13 à Alice, qui sont ses deux
 petits enfants.
Combien Papy donne-t-il d'œufs en chocolat en tout ?

Réponse :

4 • Dans sa boîte de chocolats, Emna a 24 chocolats.
 Il y a 12 chocolats noirs.
 Les autres chocolats sont blancs.
Combien y a-t-il de chocolats blancs dans la boîte ?

Réponse :

5 • Julie a préparé 22 gâteaux aux pépites de chocolat.
 Elle en garde 10 pour son petit déjeuner et elle met
 les autres dans un sac.
*Combien met-elle de gâteaux aux pépites de chocolat
 dans le sac ?*

Réponse :

6 • Karima a acheté un sachet de 24 poissons
 en chocolat. Elle donne 11 poissons aux copains
 de sa classe.
Combien lui reste-t-il de poissons en chocolat ?


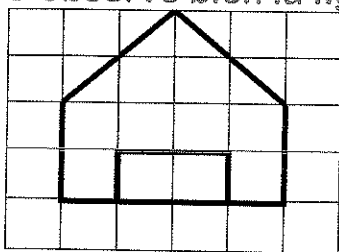
Réponse :

Géométrie

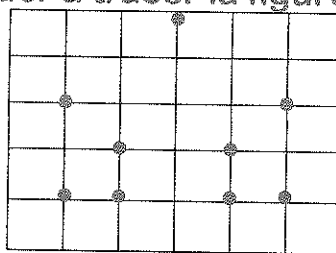
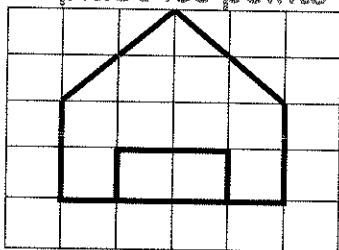
Reproduire une figure sur un quadrillage

Voici les étapes à suivre :

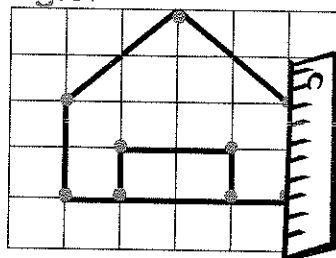
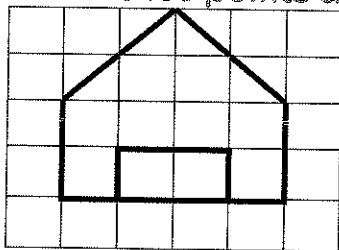
① J'observe bien la figure à reproduire.



② Je place les points qui vont m'aider à tracer la figure.

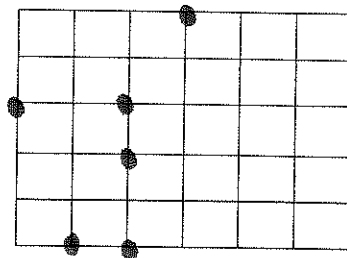
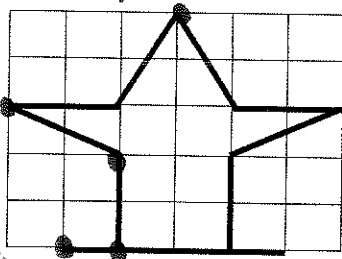


③ Je relie les points à l'aide d'une règle.



À ton tour !

Reproduis cette figure :



A

Reproduction sur quadrillage

Reproduis ces figures avec ta règle:

Penses à bien placer d'abord les nœuds!

