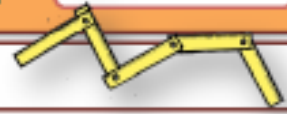




Mathématiques CM

Mesure 3

Périmètre d'un polygone



Le périmètre d'un polygone est




Périmètre du rectangle

(..... +) x

$P =$

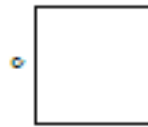
l



Périmètre du carré

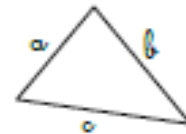
..... x

$P =$



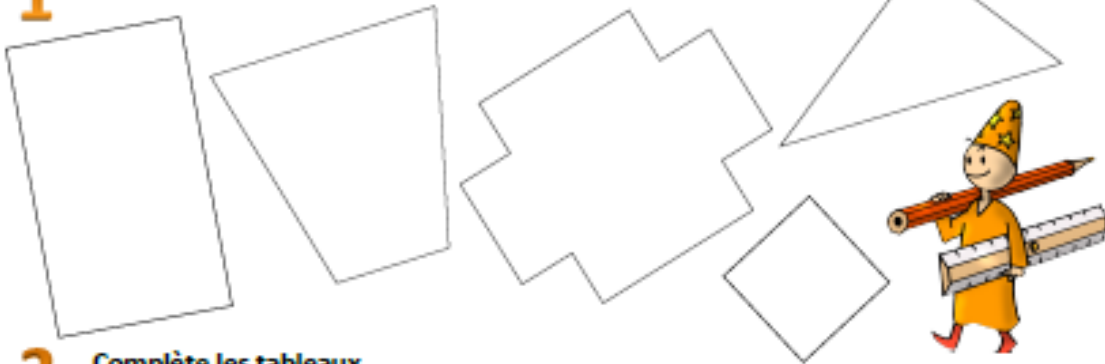
Périmètre du triangle

$P =$



1

Utilise ta règle pour trouver le périmètre des figures



2

Complète les tableaux.

Rectangles				
	a	b	c	d
Longueur	12 cm	64 cm	1 523 dmmm
Largeur	8 cm	33 cmdm	54mm
Demi-périmètre cm cm	2103 dmmm
Périmètre cm cmdm	156mm

Carrés				
	a	b	c	d
Côté	41 cmdm	13 dmmm
Périmètrecm	140 cmdm	80mm