

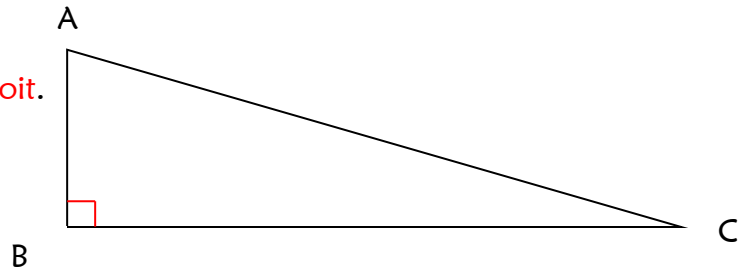
Les triangles

Un triangle est un _____ qui possède 3 _____, 3 _____ et 3 _____.

Les triangles particuliers.

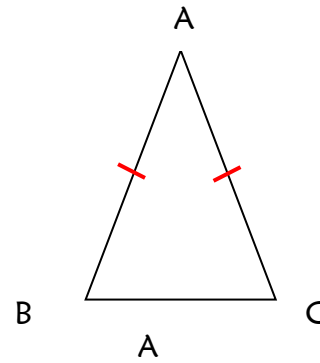
Le triangle _____ possède un angle droit.

$$AB \perp BC$$



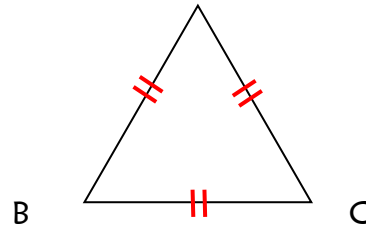
Le triangle _____ possède deux côtés de même longueur.

$$\text{Deux côtés sont égaux : } AB = AC$$



Le triangle _____ possède trois côtés de même longueur.

$$AB = AC = BC$$



Le triangle _____ (ou *scalène*) est un triangle qui n'a ni angle droit, ni côtés égaux.