

Prénom : \_\_\_\_\_

Date : \_\_\_\_\_

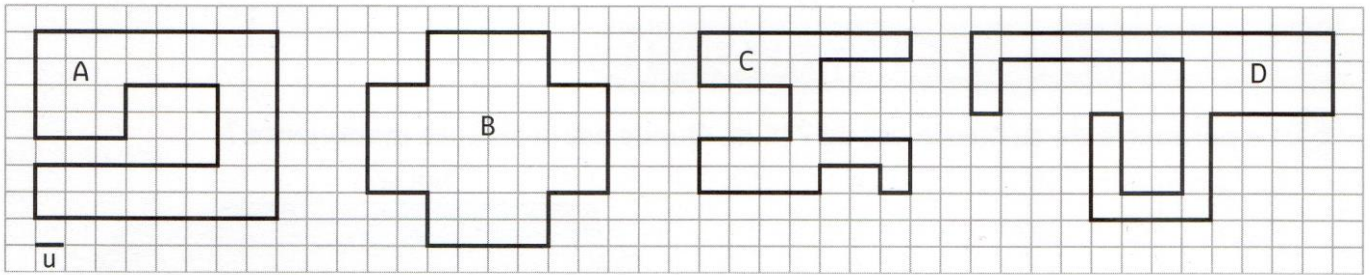


**Grandeurs et mesures : Le périmètre**  
 Comparer et calculer des périmètres de polygones

CM2

Fiche d'exercices n°3  
 Leçon 2

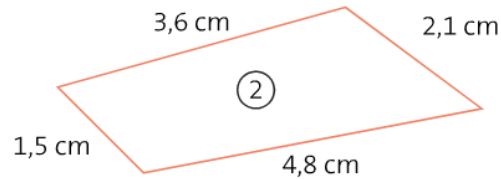
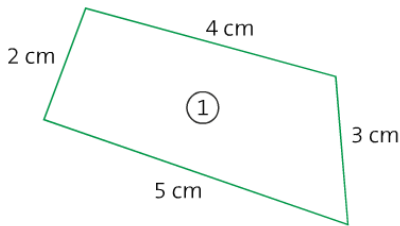
➔ **Exercice 1 :** Calcule le périmètre de chaque polygone à l'aide de l'unité **u**. Puis range ces périmètres dans l'ordre croissant.



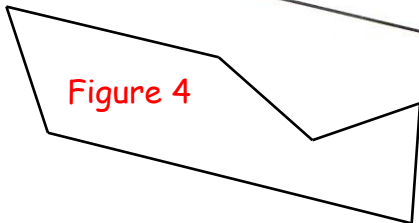
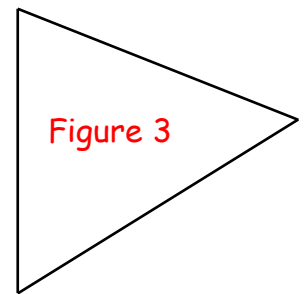
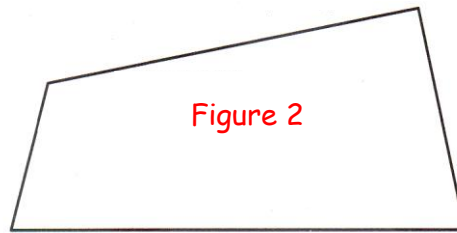
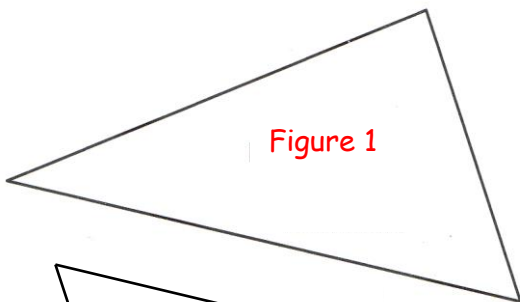
P (Figure A) = \_\_\_\_\_      P (Figure B) = \_\_\_\_\_      P (Figure C) = \_\_\_\_\_      P (Figure D) = \_\_\_\_\_

→ \_\_\_\_\_

➔ **Exercice 2 :** Calcule le périmètre de ces figures.



➔ **Exercice 3 :** Mesure et calcule le périmètre de ces figures.



➔ **Exercice 4 :** Trouve la mesure manquante pour chaque figure.

