






1 Observe ces trois photographies puis réponds aux questions.



Quel changement constates-tu entre ces trois photos d'une même journée ?

.....

.....

Selon toi, qu'est-ce qui peut expliquer ce changement ?

.....

.....

2 Indique l'Est et l'Ouest sur l'image ci-dessous puis trace les flèches de la course du Soleil. Complète ensuite les légendes avec les mots suivants : *matin – soir – vers 9 heures – vers 15 heures – vers midi.*