


Travailler en France

← Le travail permet de produire ce dont les populations ont besoin pour vivre. Ce travail correspond à des **activités économiques**. Quelles sont les différentes activités pratiquées par les personnes qui travaillent en France ? Quels paysages sont liés à ces activités ?

Je découvre les activités liées au travail en France



Doc. 1 Chaîne de montage dans une usine automobile de Poissy, dans les Yvelines (Ile-de-France)

- 1 Lis la légende du doc. 1. Localise cette région sur la carte p. 179.
- 2 Décris ce que tu vois sur la photographie.
- 3 Que fabrique-t-on dans cette usine ? Comment les ouvriers travaillent-ils ?
- 4 Que deviennent les objets fabriqués ?
- 5 Pourquoi peut-on dire que ces hommes travaillent dans le secteur industriel ?



Doc. 2 Récolte de céréales en Indre-et-Loire
(Centre-Val-de-Loire)

Je lis des photographies pour prélever des informations.

- 1 Lis la légende du doc. 2. Localise ce département sur la carte p. 178 🌐.
- 2 Quelle est l'activité de cet homme ? Que produit-il ? Pour quel usage ?
- 3 Quel paysage est lié à ce type d'activité ? À quelle période de l'année cette photographie a-t-elle été prise ?
- 4 Lis la légende du doc. 3. Localise cette ville sur la carte p. 188 🌐.
- 5 Décris le paysage en t'aidant de la méthode (↪ p. 18).
- 6 Selon toi, qui travaille dans ces immeubles ?
- 7 Selon toi, quels moyens de transport les personnes qui travaillent dans ce quartier utilisent-elles pour s'y rendre ?



Doc. 3 La Joliette, le nouveau quartier d'affaires de Marseille
dans les Bouches-du-Rhône
(Provence-Alpes-Côte d'Azur)

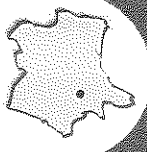
Justifie cette affirmation.
au secteur des services.

- 15 Les docs. 4 et 5 se rapportent à un secteur des services.
- 14 Dresse une liste des métiers que l'on peut exercer dans les CHU.
- 13 Quels sont les CHU proches de chez toi ?
- 12 Dresse la liste des CHU par région. Que constates-tu ?
- 11 Lis la légende du doc. 5 et recherche sur l'Internet (méthode p. 24) ce qu'est un CHU.

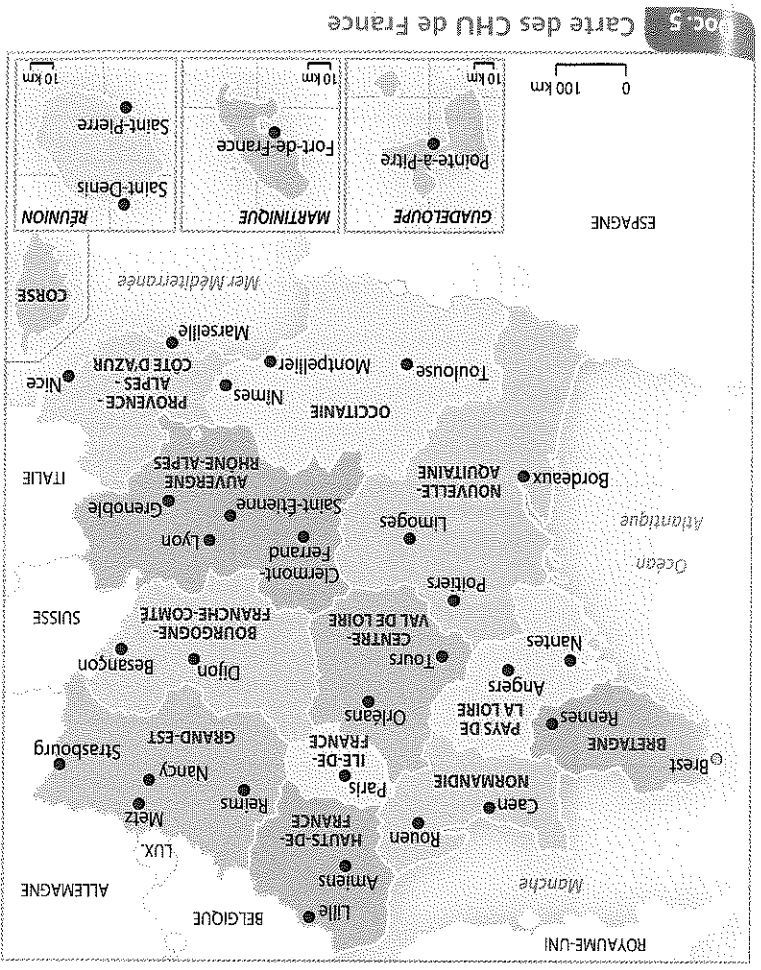
Je lis une carte.

- 10 À ton avis, quels métiers peut-on exercer dans cet endroit ?
- 9 Décris le paysage en t'aidant de la méthode (p. 18).
- 8 Lis la légende du doc. 4. Localise ce département sur la carte p. 178.

Je lis une photographie pour prélever des informations.



Doc. 4 Centre commercial au Mans dans la Sarthe (Pays- de la Loire)



Doc. 5 Carte des CHU de France